


**Consigne : Faire correspondre un énoncé et un schéma.**


Entoure le dessin qui correspond au problème.

- Jérémy, Romain et Raphaëlle vont à la pêche. Romain attrape 8 poissons, Jérémy en prend 2 de plus que Romain et Raphaëlle en pêche 3 de moins que Jérémy. Combien de poissons les 3 amis ont-ils rapportés ?


**Dessin n°1**



Poissons de Jérémy  
8




Poissons de Romain  
10




Poissons de Raphaëlle  
5

**Nombre total de poissons = 23**

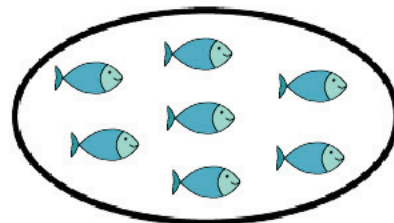
**Dessin n°2**



Poissons de Jérémy  
8



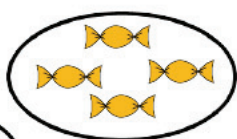

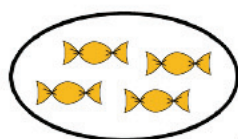
Poissons de Romain  
10



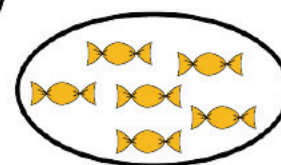
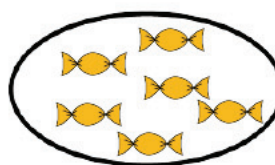
Poissons de Raphaëlle  
7

**Nombre total de poissons = 25**

- Sylvain a un paquet de 12 bonbons. Il le partage avec ses deux amis, Florian et Christine. Combien de bonbons chaque enfant aura-t-il ?



Chaque enfant aura 4 bonbons.



Chaque enfant aura 6 bonbons.